



## قرآن (سوال ۱ تا ۱۰)

- ۱) معنای درست کلمات قرآنی (خَوْف - جَزَاء) به ترتیب عبارتند از:
- الف- می ترسد - پاداش      ب- ترس - کیفر      ج- ترسید - عذاب      د- ترس - پاداش
- ۲) کدام گزینه ، ترجمه درست عبارت { اَتَّبِعُوا الْحَقَّ } می باشد؟
- الف- پیروی کردید حق را      ب- حق را پیروی کردند      ج- تبعیت کن از حق      د- تبعیت کنید حق را
- ۳) با توجه به عبارت قرآنی { هُوَ الَّذِي أَنْزَلَ السَّكِينَةَ فِي قُلُوبِ الْمُؤْمِنِينَ } آن چیزی را که خداوند بر دل های مومنان نازل کرده چیست؟
- الف- اطمینان      ب- آیات و نشانه هایش      ج- آرامش      د- سکوت
- ۴) کدام عبارت قرآنی درست ترجمه شده است؟
- الف- لَعَلَّكُمْ تُرْحَمُونَ : قطعاً شما مورد رحمت قرار گرفتید      ب- اِنَّمَا الْمُؤْمِنُونَ اِخْوَةٌ : مومنان فقط با هم برادرند      ج- خَيْرًا مِنْهُمْ : بهترین آنها      د- فَاصْلِحُوا : پس اصلاح کردند
- ۵) کدام گزینه جای خالی را با توجه به مفهوم آیه ، به درستی کامل می کند؟
- { فَآخَذْنَاهُمْ أَخَذَ عَزِيزٌ مُّقْتَدِرٌ } « پس ..... آنگونه که فردی عزتمند و مقتدر مجازات می کند »
- الف- گرفتیم شما را      ب- مجازات کردیم شما را      ج- عذاب دادیم آن ها را      د- مجازات کردیم آن ها را
- ۶) کدام ترجمه برای عبارت قرآنی { فَهَلْ مِنْ مُدْكِرٍ } مناسب است؟
- الف- پس آیا از پند گیرندگان هستی؟      ب- پس آیا کسی هست که پند گیرد؟      ج- پس آیا هیچ پند گیرنده ای هست؟      د- پس چرا هیچ پند گیرنده ای نیست؟
- ۷) با توجه به نکته معنایی به کار رفته در عبارت قرآنی { اَلَّا تَطْغَوْا } ، کدام ترجمه برای این عبارت مناسب است؟
- الف- که طغیان نکنید      ب- که از حد نگذشتند      ج- آگاه باشید طغیان نکنید      د- اینکه از حد گذشتند
- ۸) بر اساس آیات ابتدای سوره (الرَّحْمَن) ، کدام کلمه عبارت قرآنی { عَلَّمَهُ ..... } را کامل می کند؟
- الف- البیان      ب- اَلْقُرَّاءَن      ج- اَلْاِنْسَانَ      د- المیزان
- ۹) کدام معنا برای (يَعْلَمَ) در عبارت قرآنی { وَ لَيَعْلَمَ اللهُ مَنْ يَنْصُرُهُ وَ رُسُوْلَهُ ..... } مناسب تر است؟
- الف- می داند      ب- مشخص کرد      ج- بداند      د- بشناسد
- ۱۰) ترجمه عبارت قرآنی { اِنَّ اللهَ خَبِيْرٌ بِمَا تَعْمَلُوْنَ } در کدام گزینه به درستی بیان شده است؟
- الف- قطعاً خداوند به آنچه عمل می کنند آگاه است      ب- همانا خداوند با خیر است از آنچه شما می دانید      ج- همانا خداوند با خیر است از آنچه آن ها انجام می دهند      د- قطعاً خداوند به آنچه عمل می کنید آگاه است

## پیام های آسمان (سوال ۱۱ تا ۲۰)

- ۱۱) با توجه به آیه شریفه (وَلَا يَزَالُونَ يَقَاتِلُونَكُمْ حَتَّى يَرُدُّوكُمْ عَنْ دِينِكُمْ) هدف اصلی دشمنان از جنگ و تحریم و شبیخون فرهنگی چیست؟
- الف) به زانو درآوردن مردم      ب) نابودی باورهای دینی مردم      ج) استفاده از سرمایه های کشور      د) زمینه سازی برای حکومت بر مردم
- ۱۲) فتوای فقیهان برگرفته از چیست؟
- الف) کتابهای دینی و فقهی      ب) تفکر درسرخنان پیامبران(ص)      ج) قرآن و احادیث معصومین(ع)      د) مشورت باحاکمان وعالمان
- ۱۳) هدف از قیام امام زمان (عج) در کدامیک از گزینه های زیر بیان شده است؟
- الف) گسترش عدالت و مهربانی      ب) سرنوشت مردم به دست نیکوکاران و عدالت جویان بیفتد      ج) رسیدن مردم به آرامش و خوشبختی      د) همه موارد
- ۱۴) با کدام آب می توان وضو گرفت و کدامیک از آبها مضاف نیست.
- الف) مباح، گلاب      ب) مطلق، آب گل آلود      ج) مضاف، آب رودخانه های عمومی      د) مباح، آب دریا
- ۱۵) کدام مورد نماز را باطل نمی کند؟
- الف: شک در رکعت اول یا دوم نمازهای سه رکعتی.
- ب) اگر نمازگزار به طور سهوی یکی از ارکان نماز را کم یا زیاد کند.
- ج) اگر نمازگزار بعد از نماز شک کند که هنگام نماز، کاری که نماز را باطل می کندانجام داده است یا نه
- د) اگر نمازگزار در حال نماز سلام کند.



۱۶) در کدام یک از موارد زیر ، نماز نمازگزار باطل است؟

- (الف) از روی فراموشی از قبله روی برگرداند  
(ب) در حال قنوت با زبان فارسی دعا کند.  
(ج) ذره های ریز غذا در بین نماز فرو دهد  
(د) در بین نماز بادست اشاره کند

۱۷) مباح بودن آب و ظرف وضو به چه معنا است؟

- (الف) پاک باشد (ب) غصبی نباشد (ج) مطلق باشد (د) مضاف باشد

۱۸) نام ناپسند نهادن و استفاده بیش از حد و بدون اجازه از وسایل دوستان مربوط به عدم رعایت کدام وظیفه دوستی است؟

- (الف) میانه روی در دوستی (ب) احترام به دوست (ج) پرهیز از علاقه افراطی (د) پرهیز از گفتن تمام اسرار به دوست

۱۹) بنا به فرمایش امام صادق (ع) محبوب ترین دوستانم نزد من چه کسانی هستند؟

- (الف) کسی که به واجباتش عمل کند  
(ب) کسی که عیب های من را به من هدیه دهد  
(ج) کسی که مردم آزار نباشد  
(د) کسی که یار و یاور دوستش باشد

۲۰) حضرت علی(ع) پاداش کدام یک از افراد زیر را با پاداش مجاهد شهید در راه خدا، برابر می داند؟

- (الف) نوجوانی که شادابی و طراوتش را در راه اطاعت خدا صرف می کند (ب) انسان عفیف و پاکدامن  
(ج) انسان با ایمانی که به تکالیف دینی عمل می کند (د) رزمندگانی که در راه خدا مبارزه می کنند

### علوم تجربی (سوال ۲۱ تا ۳۵)

۲۱) رشته کوه های زاگرس و دریای سرخ هر کدام به ترتیب چگونه تشکیل شده اند؟

- (الف) نزدیک شدن عربستان به ایران- نزدیک شدن عربستان به آفریقا (ب) در کنار هم لغزیدن ایران و عربستان- دور شدن عربستان از آفریقا  
(ج) برخورد عربستان به ایران- دور شدن عربستان از آفریقا (د) دور شدن عربستان از آفریقا- برخورد عربستان با ایران

۲۲) عبارت «شخصی به جعبه ساکن نیرو وارد می کند، ولی جعبه حرکت نمی کند چون نیروی رو به جلو با نیروی اصطکاک رو به عقب هم اندازه اند» مربوط به کدام قانون نیوتن می باشد؟

- (الف) قانون اول (ب) قانون دوم (ج) قانون سوم (د) مربوط به قوانین نیوتن نیست

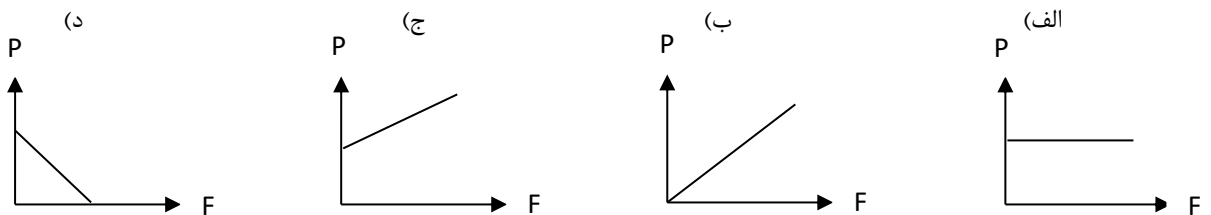
۲۳) عقربه کیلومتر شمار خودرو نشان دهنده کدام یک می باشد؟

- (الف) تندمی متوسط (ب) تندمی لحظه ای (ج) سرعت متوسط (د) سرعت لحظه ای

۲۴) برای تشکیل فسیل ، شرایط محیطی مناسب لازم است کدام یک از عوامل زیر ، مانع تشکیل فسیل می شود؟

- (الف) ذرات نرم و دانه ریز (ب) جانداران تجزیه کننده (ج) صمغ درختان (شیره درختان) (د) مواد نفتی

۲۵) در کدام گزینه، رابطه بین نیرو و فشار به درستی نشان داده شده است؟



۲۶) در قله کوه نفس کشیدن مشکل است زیرا در آن جا :

- (الف) شدت آفتاب زیاد است (ب) فشار هوا زیاد است (ج) فشار هوا کم است (د) هوا سردتر است

۲۷) کدام یک از موارد زیر حاصل برخورد یک ورقه اقیانوسی با ورقه ای قاره ای می تواند باشد ؟

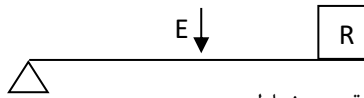
- (الف) تولید مواد مذاب (ب) گسترش بستر اقیانوسی (ج) ایجاد آتشفشان در خشکی (د) همه موارد

۲۸) اگر قطر قره قره ثابتی ۳ برابر شود، مزیت مکانیکی آن .....

- (الف) ۳ برابر می شود (ب) ۱/۵ برابر می شود (ج) تغییر نمی کند (د) ۶ برابر می شود



۲۹) شکل مقابل یک اهرم می باشد، مشخص کنید این اهرم مربوط به کدام یک از وسایل زیر می باشد؟



(د) قیچی خیاطی

(ج) انبر دست

(ب) چرخ دستی

(الف) قاشق

۳۰) کدام یک از سیارات زیر بالاترین دما را در بین سیارات دارند؟

(د) زحل

(ج) مشتری

(ب) ناهید

(الف) تیر

۳۱) کمر بند اصلی سیارک ها در فاصله بین مدار کدام سیاره ها قرار دارد؟

(د) مریخ- مشتری

(ج) مشتری- زحل

(ب) زمین- مریخ

(الف) عطارد- ناهید

۳۲) شتاب اتومبیلی  $10 \frac{m}{s^2}$  است، اگر اتومبیل از حال سکون شروع به حرکت کند، در مدت ۳ ثانیه سرعت آن به چند  $\frac{km}{h}$  می رسد؟

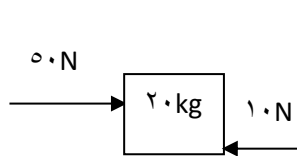
(د) ۱۰۸

(ج) ۱۰۸۰

(ب) ۳

(الف) ۳۰

۳۳) مطابق شکل، جسم ۲۰ کیلوگرمی توسط نیروی افقی  $50N$  به سمت شرق به حرکت در می آید. اگر نیروی اصطحاک جسم و زمین  $10N$  باشد، در این حالت نیروی خالص وارد بر جسم ..... نیوتن و شتاب حرکت جسم ..... خواهد بود.

(ب)  $3 \frac{N}{Kg} - 60$ (د)  $1/5 \frac{N}{Kg} - 240$ (الف)  $2 \frac{N}{Kg} - 40$ (ج)  $12 \frac{N}{Kg} - 30$ 

۳۴) در کدام یک از محیط های غیردریایی تشکیل فسیل، جسد جاندار می تواند به طور کامل سالم بماند؟

(د) خاکستر آتشفشان

(ج) مرداب ها

(ب) معادن نمک

(الف) صمغ گیاهان

۳۵) برای این که در یک سطح شیبدار نیروی محرک کمتری مصرف شود، باید:

(ب) نسبت ارتفاع سطح شیبدار به طول آن بیشتر شود

(الف) نسبت طول سطح شیبدار به ارتفاع آن بیشتر شود

(د) طول با ارتفاع سطح شیبدار، مساوی باشد.

(ج) طول و ارتفاع سطح شیبدار هر دو زیاد شود.

## ریاضی (سوال ۳۶ تا ۵۰)

۳۶) کدام گزاره درست نیست؟

(ب) نسبت مساحت دو شکل متشابه برابر است با مجذور نسبت تشابه.

(الف) هر دو چند ضلعی منتظم متشابهند.

(د) دو مثلث متساوی الساقین که زاویه ی رأس مساوی داشته باشند متشابهند

(ج) مربع نوعی مستطیل است.

۳۷) در مثلث  $ABC$ ،  $\hat{B} = \hat{C} = 70^\circ$  است، زاویه بین نیم ساز  $BD$  و ارتفاع  $BH$  کدام است؟

(د) ۲۰

(ج) ۱۵

(ب) ۱۰

(الف) صفر

۳۸) درجه چند جمله ای  $ax^3 + 7a^3x^2b + 4a^7y - 3ax^3$  نسبت به متغیرهای  $x$  و  $a$  چند است؟

(د) ۸

(ج) ۷

(ب) ۶

(الف) ۵

۳۹) کدام یک از گزینه های زیر یک جمله ایست؟

(د)  $\sqrt{x}$ (ج)  $4x^3$ (ب)  $|x + 4|$ (الف)  $3^x$ 

۴۰) ساده شده ی عبارت  $2\sqrt{20} - \sqrt{45} + \frac{1}{\sqrt{80}}$ ، چند برابر  $\sqrt{5}$  است؟

(د) ۱

(ج) ۲

(ب) ۳

(الف) ۴

۴۱) اگر  $a^2 + b^2 = 648$  و  $(a - b)^2 = 424$  باشد، حاصل  $(a + b)^2$  برابر است با:

(د) ۸۸۶

(ج) ۹۳۲

(ب) ۸۷۲

(الف) ۹۲۳

۴۲) کدام گزینه از بقیه بزرگ تر است؟

(د)  $-3/0.1 \times 10^{-4}$ (ج)  $-\frac{1}{2}$ (ب)  $-\sqrt[3]{125}$ (الف)  $-(-3)^2$ 

۴۳) نسبت تشابه دو مثلث  $\frac{9}{16}$  است. اگر محیط مثلث بزرگ تر ۴۸ و دو ضلع از مثلث کوچک تر برابر ۶ و ۹ باشند، ضلع سوم مثلث کوچک تر

کدام است؟

(د) ۱۸

(ج) ۲۰

(ب) ۱۶

(الف) ۱۲



۴۴) اگر  $x + \frac{1}{x} = 4$  باشد حاصل  $x^2 + \frac{1}{x^2}$  را بیابید؟

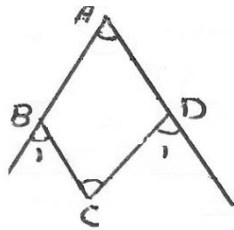
الف) ۱۶

ب) ۱۴

ج) ۱۵

د) ۱۲

۴۵) در شکل روبرو  $B_1 = \frac{1}{3} D_1$  و  $A = 50^\circ$ ،  $C = 70^\circ$  می باشد اندازه ی زاویه ی  $B_1$  چند درجه است؟



د) ۴۵ درجه

ج) ۴۰ درجه

ب) ۳۵ درجه

الف) ۳۰ درجه

۴۶) با توجه به عبارت زیر، کدام گزینه حتما درست است؟

"بین پنج نفر با نام های علی، مجتبی، رضا، امیر و حسین، علی از مجتبی کوچک تر است. رضا از حسین بزرگ تر است. مجتبی از امیر بزرگ تر و از رضا کوچک تر است."

الف) علی از حسین بزرگ تر است.

ب) رضا از همه بزرگ تر است.

ج) امیر از همه کوچک تر است.

د) حسین از مجتبی بزرگ تر است.

۴۷) جواب نامعادله ی مقابل کدام است؟

$$\frac{2x+3}{2} - \frac{2}{4} > \frac{4x+1}{3}$$

الف)  $x < \frac{2}{3}$ ب)  $x > \frac{3}{4}$ ج)  $x > \frac{7}{6}$ د)  $x < \frac{5}{4}$ 

۴۸) حاصل عبارت  $\frac{1}{\sqrt{3}+1} + \frac{1}{\sqrt{3}+\sqrt{2}}$  کدام است؟

الف)  $\sqrt{3} + 1$ ب)  $\sqrt{3} - 1$ ج)  $\sqrt{2} + 1$ د)  $\sqrt{2} - 1$ 

۴۹) اگر  $A = 5^{n+2}$  و  $B = 5^n$  باشد B چند برابر A می باشد؟

الف) ۲۵ برابر

ب) ۵ برابر

ج)  $\frac{1}{5}$  برابرد)  $\frac{1}{25}$  برابر

۵۰) علامت دو عدد  $A = [-( -4 )^{-2}]^{-4}$  و  $B = [-5(-5)^2]^5$  به چه صورت خواهد بود؟

الف) A مثبت و B منفی

ب) A منفی و B مثبت

ج) A و B هر دو مثبت

د) A و B هر دو منفی

## ادبیات فارسی (سوال ۵۱ تا ۶۰)

۵۱) در کدام گزینه غلط املایی وجود ندارد؟

الف) نام تو رخست رویش است و طراوت

ب) در میان روغایا چنان حقیر می نمود که وقتی خادمی به وی رسید گفت

ج) سلمان گفت به سه وجع این کار را برای خودم کردم

د) سوم آنکه از عهده حفظ رعیت بیرون آمده باشم .

۵۲) در عبارت "مثل تو جمله یک تن است چون یک اندام را رنجی رسد ، همه ی اندام ها آگاهی یابند و رنجور شوند ." کدام گزینه دیده نمی شود؟

الف) تضاد

ب) تشبیه

ج) تشخیص

د) کنایه

۵۳) در کدام گزینه دوفعل ماضی نقلی و ماضی استمراری باهم به کار رفته است؟

الف) ساعتی کنار باغچه می ایستم و غرق اندیشه و خیال می شوم.

ب) به تشنه ای می مانست که ساعت ها در بیابانی خشک و زیر نور فروزان مانده است.

ج) روز ها می گذشت و هرروز درخت وجود نصیرالدین پر بار تر می شد

د) من درباره ی درس هایی که هرروز فرا گرفته ام با پدرم بحث و گفت وگو می کنم.

۵۴) کدام شاعر و در کدام کتاب "رابعه عدویه" را ستوده است؟

الف) سعدی - بوستان

ب) عطار - مصیبت نامه

ج) سعدی - گلستان

د) عطار تذکره الاولیا



۵۵) مترادف واژه های کدام گزینه در عبارت زیر وجود ندارد؟

" اسکندر یکی از کاردانان را از عملی شریف عزل کرد و عملی خسیس به وی داد. مرد گفت: نه مرد به عمل بزرگ و شریف گردد، بلکه عمل به مرد بزرگ و شریف گردد ؛ پس در هر عمل که هست نیکو سیرتی می باید و داد.

الف) فرومایه، بخشش، آراسته، حرفه  
ب) بزرگ، عادت، انصاف، جدا کردن  
ج) عدالت، خلق و خوی، پست، آراسته  
د) شغل، پسندیده، عادت، بیکار ساختن

۵۶) کدام گزینه ها با عبارت زیر ارتباط معنایی ندارد؟

" ای ابوذر زندگی را پیش از مرگ غنیمت شمار "

الف) چو مارا به غفلت شده روزگار / تو باری دمی چند فرصت شمار

ب) دست حسرت گزی اریک درمت فوت شود/هیچت از عمر تلف کرده پشیمانی نیست

ج) حاصل عمر تلف کرده و ایام به لغو / گذرانیده به جز ضعف و پشیمانی نیست

د) دریغا که فصل جوانی برفت / به لپو و لعب زندگانی برفت

۵۷) در جمله " مومن برای رهایی از گناه و نافرمانی، پیش از گنجشک در قفسی تلاش می کند " نقش واژه هایی که مشخص شده در کدام گزینه است؟

الف) متمم - متمم (ب) مسند - مسند (ج) قید - متمم قیدی (د) قید - مسند

۵۸) کدام گزینه با عبارت زیر تناسب معنایی ندارد؟

" سلمان فارسی بر لشکری امیر بود. در میان رعایا چنان حقیر می نمود که وقتی خادمی به وی رسید، گفت: «این توبره کاه بردار و به لشکرگاه

سلمان بر. چون به لشکرگاه رسید، مردم گفتند: امیر است. آن خادم بترسید و در قدم وی افتاد. «

الف) سلمان باشد گر کنند افتادگان افتادگی/مهربانی و تواضع از بزرگان خوش نماست

ب) (گر همی خواهی قبول خاص و عام/پیشه خود کن تواضع، والسلام

ج) دوست می سازد تواضع دشمن دیرینه را / خاکساری می کند جاروب گرد کینه را

د) امیدوار بود آدمی به خیر کسان/مرا به خیر تو امید نیست، شمر مرسان

۵۹) ساختمان کدام گزینه با دیگر گزینه ها متفاوت است؟

الف) ساخت و ساز (ب) زد و خورد (ج) جست و جو (د) پخت و پز

۶۰) عبارت زیر به کدام گزینه اشاره دارد؟

" تو خود را رنجه مدار ای طرار که اگر یک دوست خفته است، دوست دیگر بیدار است "

الف) غمگین شدن راهزن از خواب دوستش (ب) پشتیبانی خداوند از بندگان در همه حال

ج) نگهبانی نوبتی دوستان از دارایی های یکدیگر (د) خواب نوبتی دوستان در مسافرت

### عربی (سوال ۶۱ تا ۷۰)

۶۱) مترادف و یا متضاد کدام کلمه نادرست است؟

الف) جمال ≠ قبح (ب) شقاوة ≠ سعادة (ج) طالب = تلمیذ (د) عیندما = فرح

۶۲) فعل های «أُخْرِجُ - تَشْكُرِينَ - جَلَسْنَا» به ترتیب چه نوع فعلی هستند؟

الف) امر - مضارع - ماضی (ب) ماضی - امر - مضارع (ج) مضارع - امر - ماضی (د) امر - ماضی - مضارع


۶۳) فعل امر از مضارع ((تَرَحَّمَنَّ)) در کدام گزینه آمده است؟

الف) تَرَحَّمَا (ب) اِرْحَمَنَّ (ج) اِرْحَمَا (د) تَرَحَّمَان

۶۴) با توجه به تصویر کدام عبارت مناسب است؟

الف) اِبْحَثُوا عَنِ الْجَوَابِ فِي الْكِتَابِ (ب) اِبْحَثِي عَنِ الْجَوَابِ فِي الْكِتَابِ

ج) اِبْحَثْنَا عَنِ الْجَوَابِ فِي الْكِتَابِ (د) اِبْحَثْنَ عَنِ الْجَوَابِ فِي الْكِتَابِ





۶۵) ترجمه درست عبارت (أنتِ تَقْدِرِينَ عَلَى الْخُرُوجِ بِسُهُولَةٍ).

- الف) تو به آسانی می توانی خارج شوی. (ب) توبه آسانی خارج خواهی شد.  
ج) توبه آسانی خارج شدی. (د) تو می توانی ، به آسانی خارج شو.

۶۶) کدام فعل مناسب جای خالی است؟ « أُسْكُنِي يَاطْفَلَةً وَ..... ».

- الف) لَأَتَصْرُحْنَ (ب) لَأَتَصْرُحُ (ج) لَأَتَصْرُحُ (د) لَأَتَصْرُحِي

۶۷) کدام گزینه جمله = يَا أَخَوَاتِي رَجَاءٌ ..... و ..... را کامل می کند.

- الف) لَا تَجْلِسَا - إِذْهَبَا (ب) لَا تَجْلِسُوا - إِذْهَبُوا (ج) لَا تَجْلِسْنَ - إِذْهَبْنَ (د) لَا تَجْلِسِ - إِذْهَبْ

۶۸) توضیح مقابل مربوط به کدام یک از گزینه های زیر است؟ « صِفَةُ لِلْمَكَانِ الْمَمْلُوءِ بِالْأَشْيَاءِ وَالْأَشْيَاءِ »

- الف) نَشِيطَةٌ (ب) رَاقِدَةٌ (ج) الْمُرْدَحِم (د) الْمُسْتَشْفَى

۶۹) کلمات « دَرَسَ - حَرِيقَ - عَرَبَةٌ - » در کدام گزینه درست ترجمه شده است؟

- الف) درس خواند - آتش سوزی - واگن (ب) درس داد - آتش سوزی - گاری  
ج) درس خواند - آتش گرفت - واگن (د) درس داد - آتش سوزی - واگن

۷۰) ترکیب وصفی ((جَنُودُنَا الْأَقْوِيَاءُ)) چگونه به فارسی ترجمه می شود؟

- الف) سربازان نیرومند ما (ب) سرباز نیرومند ما (ج) سربازان قوی هستند. (د) سربازانی قوی

### مطالعات اجتماعی (سوال ۷۱ تا ۸۵)

۷۱) کدام یک از شاخص های توسعه انسانی جنبه فرهنگی دارد؟

- الف) سواد و آموزش (ب) درآمد و رفاه (ج) امید به زندگی (د) متوسط طول عمر

۷۲) کدام یک از موارد زیر از اقدامات شاه اسماعیل صفوی نیست؟

- الف) شکست شروانشاهان و آق قویونلوها (ب) رسمی کردن مذهب شیعه  
ج) انتقال پایتخت از تبریز به قزوین (د) ایجاد اتحاد بین اقوام ایرانی

۷۳) در دوره صفویه به دلیل بی توجهی پادشاهان صفوی کدام یک از رشته های زیر پر رونق نبود؟

- الف) شعر و ادبیات فارسی (ب) علوم و معارف دینی (ج) تاریخ (د) فقه و حدیث

۷۴) کدام یک از موارد زیر مربوط به عهدنامه گلستان می باشد؟

- الف) سرزمین های ایرانی شمال رود ارس به تصرف روسیه درآمد. (ب) مجبور شدن ایران به پرداخت غرامت به روسیه  
ج) محروم شدن ایران از داشتن کشتی جنگی در دریای مازندران (د) شهرهای باکو و گنجه تحت حاکمیت روسیه قرار گرفتند.

۷۵) دوران کدام سلسله را دوره آرامش و آسایش گذارا می گویند؟

- الف) افشاریه (ب) زندیه (ج) قاجاریه (د) صفویه

۷۶) احداث مدرسه دارالفنون از اقدامات کدام شخصیت زیر است؟

- الف) عباس میرزا (ب) امیرکبیر (ج) میرزا حسن رشدیه (د) میرزا رضا کرمانی

۷۷) فرمان مشروطیت را کدام شاه قاجار صادر کرد؟

- الف) ناصرالدین شاه (ب) محمدشاه (ج) مظفرالدین شاه (د) فتحعلی شاه

۷۸) کودتای ۲۸ مرداد ۱۳۳۲ علیه دولت چه کسی رخ داد؟

- الف) دکتر مصدق (ب) آیت الله کاشانی (ج) احمد قوام (د) سرلشکر زاهدی

۷۹) پس از کدام واقعه حکومت پهلوی دریافت که امام خمینی (ره) اهل سازش و سکوت نیست و باید تبعید شوند؟

- الف) مخالفت با انجمن های ایالتی و ولایتی (ب) مخالفت با اصول ششگانه  
ج) مخالفت با کاپیتولاسیون (د) قیام ۱۵ خرداد ۱۳۴۲

۸۰) دفاع از آرمانهای انقلاب اسلامی و مرز و بوم کشور از وظایف کدامیک از نهادهای پس از پیروزی انقلاب بود؟

- الف) جهادسازندگی (ب) سپاه پاسداران و بسیج مستضعفین (ج) نهضت سوادآموزی (د) کمیته انقلاب

۸۱) کدام یک از گزینه های زیر از عوامل خارجی نابرابری در جهان نمی باشد؟

- الف) مستعمره کردن کشورها در گذشته (ب) اشغال نظامی کشورها  
ج) نبودن وحدت و مشارکت بین مردم (د) جلوگیری از استقلال سیاسی و اقتصادی



- ۸۲) مجلس شورای اسلامی به دستور کدام پادشاه قاجاریه به توپ بسته شد؟  
 الف) احمد شاه (ب) مظفرالدین شاه (ج) ناصرالدین شاه (د) محمدعلی شاه
- ۸۳) کدام شخصیت مبارز و روحانی استفاده از توتون و تنباکو را حرام اعلام کرد؟  
 الف) آیت الله آشتیانی (ب) آیت الله کاشانی (ج) آیت الله مدرس (د) آیت الله میرزا حسن شیرازی
- ۸۴) بلافاصله پس از همه پرسی تعیین نظام سیاسی کدام اقدام انجام شد؟  
 الف) انتخابات اولین دوره ریاست جمهوری (ب) تعیین هیات دولت (ج) تدوین قانون اساسی (د) برگزاری اولین دوره مجلس شورای اسلامی
- ۸۵) پس از کدام حادثه به تدریج نفوذ و سلطه آمریکا بر ایران بیشتر شد؟  
 الف) کودتای ۲۸ مرداد (ب) قیام ۱۵ خرداد (ج) نهضت ملی شدن نفت (د) قیام ۲۹ بهمن

## زبان انگلیسی (سوال ۸۶ تا ۹۵)

۸۶) Your friend .....the table every day.

- ۱) clear                      ۲) to clear                      ۳) clears                      ۴) cleaning

۸۷) I have no time, I should ..... to go.

- ۱) hire a taxi                      ۲) put out fire                      ۳) help charity                      ۴) keep it clean

۸۸) New year ..... you a great holiday!

- ۱) starts – Enjoy                      ۲) comes – Happy  
 ۳) is coming – Wish                      ۴) is going – Have

۸۹) We sing the national anthem every day.

- ۱) s\_t\_h                      ۲) t\_d\_h                      ۳) t\_t\_h                      ۴) s\_d\_h

۹۰) Fitr Eid is an important ..... holiday in many Muslim countries.

- ۱) religious                      ۲) generous                      ۳) serious                      ۴) nervous

۹۱) At the turn of each year, we ..... the Haft Seen table and my father ... ..... the Holy Quran.

- ۱) sets / recite                      ۲) is setting / is reciting                      ۳) are setting / are reciting                      ۴) set / recites

۹۲) They work ..... a fire station ..... shifts.

- ۱) at, on                      ۲) at, at                      ۳) on, on                      ۴) on, at

۹۳) A: ..... lost children? B: The policemen .....

- ۱) Who helps- does                      ۲) Who help- do  
 ۳) Who helps- helps                      ۴) Who helps- help children

۹۴) My sister ..... speaks English at home.

- ۱) doesn't usually                      ۲) always doesn't                      ۳) never                      ۴) is always

۹۵) Which sentence has a falling intonation?

- ۱) Can you help me please?                      ۲) Where do you live?  
 ۳) Does your grandmother cook the New Year meal?                      ۴) Do you like rainy weather?